

甘肃省普通高校专升本资源一类模拟卷（一）

一、单选题（本大题共30小题，每小题2分，共60分）

1. [单选]

当启动向导时，如果选“使用样板”选项，每个CAD的样板图形的扩展名应为（ ）。

- (A) .DWG (B) .DWT
(C) .DWK (D) .TEM



2. [单选]

如果从起点为（5，5），要画出于X轴正方向成30度夹角，长度为50的直线应输入（ ）。

- (A) 50,30 (B) @30,50
(C) @50,30 (D) 30,50



3. [单选]

用相对直角坐标绘图时以哪一点为参照点（ ）。

- (A) 上一指定点或位置 (B) 坐标原点
(C) 屏幕左下角点 (D) 任意点



4. [单选]

执行（ ）命令对闭合图形无效。

- (A) 打断 (B) 复制
(C) 拉长 (D) 删除



5. [单选]

应用下面哪个选项可以使直线、多段线绘制的图形闭合（ ）。

- (A) CLOSE (B) CONNECT
(C) COMPLETE (D) DONE



6. [单选]

当MIRROR命令对文本属性进行镜像操作时，要想让文本具有可读性，应将变量MIRRTEXT的值设置为（ ）。

- (A) 0 (B) 1
(C) 2 (D) 3



7. [单选]

下面哪个命令可以对两个对象用圆弧进行连接（ ）。

- (A) FILLET (B) PEDIT
(C) CHAMFER (D) ARRAY



8. [单选]

下面哪个对象不可以使用PLINE命令来绘制（ ）。

- (A) 直线 (B) 具有宽度的直线
(C) 圆弧 (D) 椭圆弧



9. [单选]

下列目标选择方式中，哪种方式可以快速全选绘图区中所有对象（ ）。

- (A) ESC (B) BOX
(C) ALL (D) ZOOM



10. [单选]

可以通过下面哪个系统变量控制点的样式()。

- (A) PDMODE (B) PDSIZE
(C) PLINE (D) POINT



11. [单选]

下列哪个命令能够既刷新视图,又刷新计算机图形数据库()。

- (A) REDRAW (B) REDRAWALL
(C) REGEN (D) REGENMODE



12. [单选]

应用相切、相切、相切方式画圆时()。

- (A) 相切的对象必须是直线 (B) 不需要指定圆的半径和圆心
(C) 从下拉菜单激活画圆命令 (D) 不需要指定圆心但需要输入圆的半径



13. [单选]

使用STRETCH命令时,若所选实体全部在交叉窗口内,则拉伸实体等同于下面哪个命令()。

- (A) EXTEND (B) LENGTHEN
(C) MOVE (D) ROTATE



14. [单选]

下列哪个命令用于把单个或多个对象从他们的当前位置移至新位置,且不改变对象的尺寸和方位()。

- (A) ARRAY (B) COPY
(C) MOVE (D) ROTATE



15. [单选]

下列哪个命令可以将圆、多段线等做同心复制,且如果对象是闭合的图形,则执行该命令的对象将被放大或缩小()。

- (A) OFFSET (B) SCALE
(C) ZOOM (D) COPY



16. [单选]

用剖切面完全地剖开机件所得的视图称()视图。

- (A) 全剖 (B) 半剖
(C) 局部剖 (D) 断面



17. [单选]

用剖切面局部地剖开机件所得的视图称()视图。

- (A) 全剖 (B) 半剖
(C) 局部剖 (D) 断面



18. [单选]

半剖视图以()线为对称中心线。

- (A) 双点画线 (B) 虚线
(C) 细实线 (D) 细点画线



19. [单选]

全剖视图选用的是()剖切面。

- (A) 单 (B) 几个平行的
(C) 几个相交的 (D) 其它



20. [单选]

六个基本视图中最常用的是()视图。

- (A) 主、右、仰
- (C) 后、右、仰

- (B) 主、俯、左
- (D) 主、左、仰



21. [单选]

六个基本视图的投影规律是“主俯仰后：长对正；()：高平齐；

- (A) 主俯右左
- (B) 俯左后右
- (C) 主左后右
- (D) 主仰后右

22. [单选]

重合断面的轮廓线用()线表示。

- (A) 粗实
- (B) 细实
- (C) 细点画
- (D) 波浪

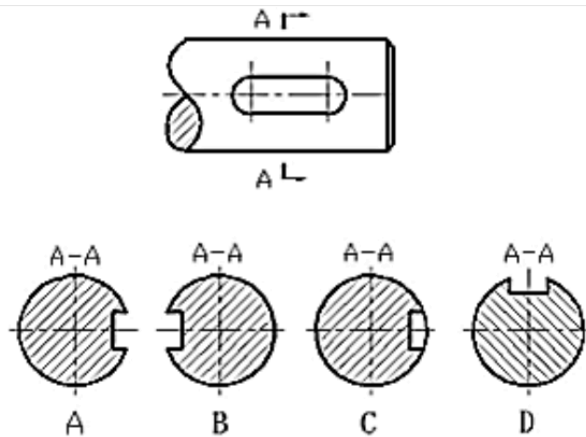
23. [单选]

局部放大图的标注中，若被放大的部分有几个，应用()数字编号，并在局部放大图上方标注相应的数字和采用的比例。

- (A) 希腊
- (B) 阿拉伯
- (C) 罗马
- (D) 中国

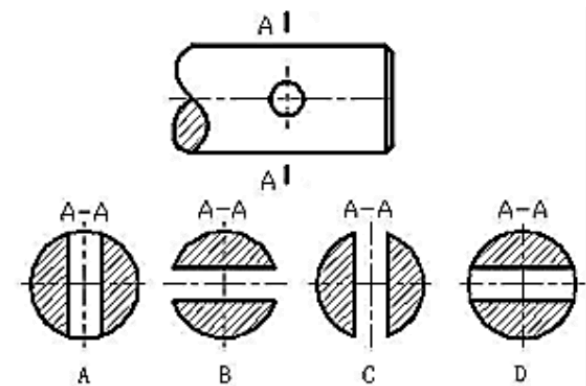
24. [单选]

在下图的A-A断面图中，选出正确的断面图()。



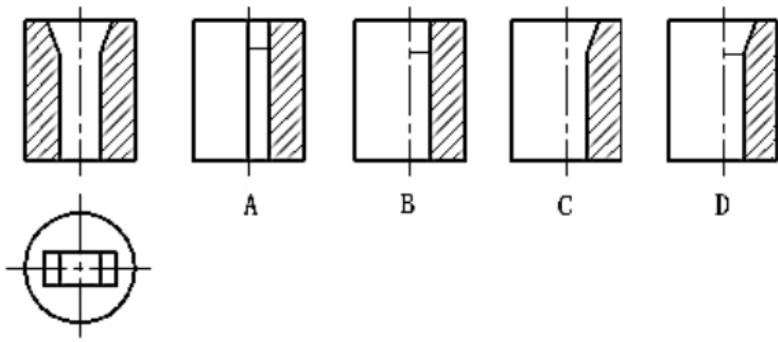
25. [单选]

下图的A-A剖面图中，选出正确的断面图()。



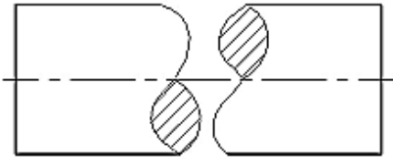
26. [单选]

在下图中，选出正确的左视图()。



27. [单选]

下图采用的是()画法。



(A) 简化

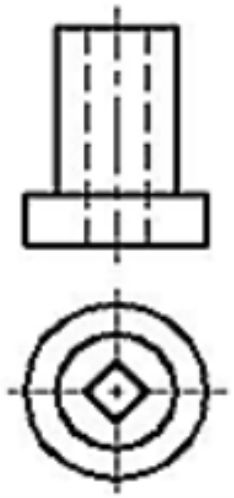
(B) 折断

(C) 对称

(D) 示意

28. [单选]

上图的主视图适合选用()剖视图。



(A) 局部

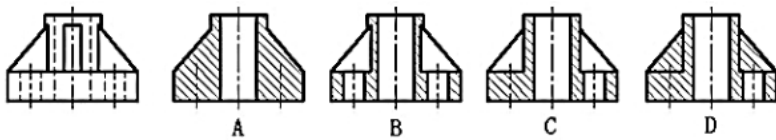
(B) 全

(C) 半

(D) 旋转

29. [单选]

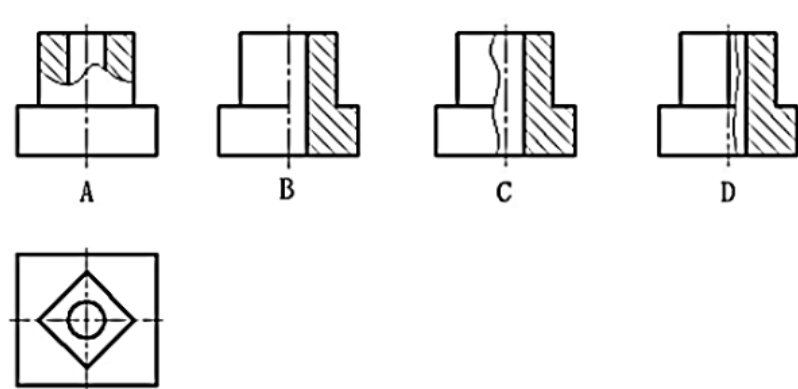
在下图中选出正确的剖视图()。



30. [单选]

在下图中选出正确的主视图()。





二、判断题（本大题共20小题，每小题2分，共40分）

1. [判断]

没有封闭的图形也可以直接填充。（ ）



2. [判断]

默认图层为0层，它是可以删除的。（ ）



3. [判断]

正交功能打开时就只能画水平或垂直的线段。（ ）



4. [判断]

范围缩放可以显示图形范围并使所有对象最大显示。（ ）



5. [判断]

用CAD绘制图形时，其绘图范围是有限的。（ ）



6. [判断]

COPY命令产生对象的拷贝，而保持源对象不变。（ ）



7. [判断]

CAD中TR表示修剪命令。（ ）



8. [判断]

在CAD中任何图形都是可以分解的。（ ）



9. [判断]

在CAD中锁定的图层在任何情况下都可以进行编辑。（ ）



10. [判断]

在CAD中插入命令把块图形文件插入图形中后，如果把块文件删除，主图中所插入的块图形也将被删除。（ ）



11. [判断]

视图包括基本视图，局部视图、斜视图和向视图共四种。（ ）



12. [判断]

视图上标有“A”字样的是向视图。（ ）



13. [判断]

视图上标有“A向旋转”字样的是斜视图。（ ）



14. [判断]

局部视图的断裂边界一般以波浪线表示。（ ）



15. [判断]

机件向基本投影面投影所得的图形称为基本视图，共有六个基本视图。（ ）



16. [判断]

六个基本视图中，最常应用的是右视图，仰视图和后视图。（ ）

17. [判断]

金属材料的剖面符号是与水平成 45° 的互相平行间隔均匀的粗实线。()

18. [判断]

半剖视图的分界线是粗实线。()

19. [判断]

局部剖视图的波浪线可用轮廓线代替。()

20. [判断]

假想用剖切平面将机件的某处切断，仅画出断面的图形，称为剖视图。()



三、简答题（本大题共4小题，每小题5分，共20分）

1. [简答]

AUTOCAD的命令输入的方式有几种？

2. [简答]

叙述块的定义步骤？

3. [简答]

倒圆角与倒角有何区别？

4. [简答]

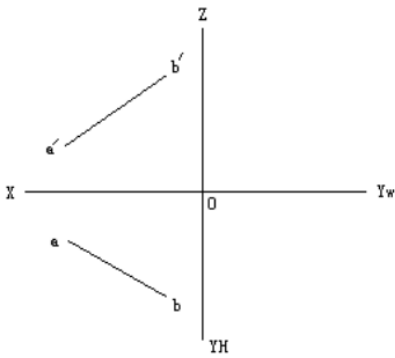
块和外部参照的主要区别是什么？



五、作图题（本大题共3小题，共30分）

1. [作图]

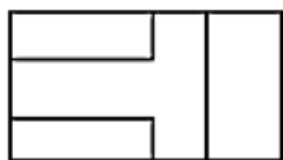
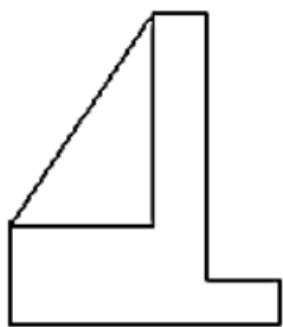
已知直线的两面投影，求作第三面投影。



2. [作图]

已知物体的两视图，补画第三视图。





3. [作图]

根据两张视图，补画第三视图。

